

ജില്ലയുടെ പേര്: കാസറഗോഡ്
ബി.ആർ.സി.യുടെ പേര്: ചെറുവത്തൂർ

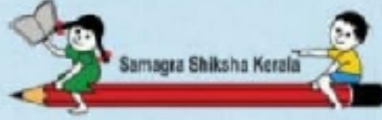
സ്റ്റാൻഡേർഡ്: രണ്ട്
വിഷയം: ഗണിതം
യൂണിറ്റ്: 5
പാഠം: കാട് ഞങ്ങളുടെ വീട്
വർക്ക് ഷീറ്റ് നമ്പർ: 1

ആരംഭം

വൈറ്റ് ബോർഡ് ഷീറ്റ്

ഇവരെ എണ്ണം കൂടിയതിൽ നിന്നും കുറവിലേക്ക് ക്രമമായി എഴുതൂ...





ജില്ലയുടെ പേര്: കാസറഗോഡ്
ബി.ആർ.സി.യുടെ പേര്: ചെറുവത്തൂർ

സ്റ്റാൻഡേർഡ്: രണ്ട്
വിഷയം: ഗണിതം
യൂണിറ്റ്: 5
പാഠം: കാട് ഞങ്ങളുടെ വീട്
വർക്ക് ഷീറ്റ് നമ്പർ: 2

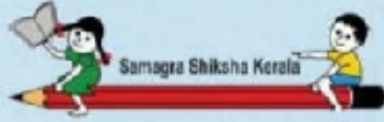
വൈറ്റ് ബോർഡ് ഷീറ്റ്

തുടർച്ച

പാചകപ്പുര കെട്ടാൻ വലുതും ചെറുതുമായ കമ്പുകളുമായി എത്തിയവരെ നോക്കൂ.



കൊണ്ടുവന്ന കമ്പുകളുടെ വലുപ്പക്രമ പ്രകാരം ഇവരുടെ പേരുകൾ വലുതിൽ നിന്നും ചെറുതിലേക്ക് ക്രമമായി എഴുതൂ..



ജില്ലയുടെ പേര്: കാസറഗോഡ്
ബി.ആർ.സി.യുടെ പേര്: ചെറുവത്തൂർ


സ്റ്റാൻഡേർഡ്: 2
വിഷയം: ഗണിതം
യൂണിറ്റ്: 5
പാഠം: കാട് ഞങ്ങളുടെ വീട്
വർക്ക് ഷീറ്റ് നമ്പർ: 3

തുടർച്ച

വൈറ്റ് ബോർഡ് ഷീറ്റ്

നീള ക്രമം അനുസരിച്ച് നമ്പറിടൂ...

2
3
1



ജില്ലയുടെ പേര്: കാസറഗോഡ്
 ബി.ആർ.സി.യുടെ പേര്: ചെറുവത്തൂർ

സ്റ്റാൻഡേർഡ്: രണ്ട്
 വിഷയം: ഗണിതം
 യൂണിറ്റ്: 5
 പാഠം: കാട് ഞങ്ങളുടെ വീട്
 വർക്ക് ഷീറ്റ് നമ്പർ: 4

തുടർച്ച

വൈറ്റ് ബോർഡ് ഷീറ്റ്

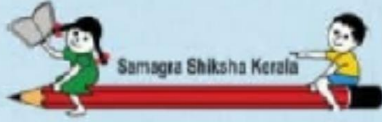
കൈ കൊണ്ട് അളക്കാം

ചാൺ
 പണ്ട് കൈവീരലുകൾ
 ചിത്രത്തിലേതു പോലെ വിടിച്ചു
 നീളം അളന്നിരുന്നു. ഈ
 അകലത്തെ ഒരു ചാൺ
 എന്നാണ് പറഞ്ഞിരുന്നത്.



അളന്നു കണ്ടെത്തി എഴുതൂ

- മേശയുടെ നീളം
- ജനലിന്റെ നീളം
- വാതിലിന്റെ വീതി
- കട്ടിലിന്റെ നീളം
- കട്ടിലിന്റെ വീതി



ജില്ലയുടെ പേര്: കാസറഗോഡ്
ബി.ആർ.സി.യുടെ പേര്: ചെറുവത്തൂർ

സ്റ്റാൻഡേർഡ്: രണ്ട്
വിഷയം: ഗണിതം
യൂണിറ്റ്: 5
പാഠം: കാട് ഞങ്ങളുടെ വീട്
വർക്ക് ഷീറ്റ് നമ്പർ: 5

തുടർച്ച

വൈറ്റ് ബോർഡ് ഷീറ്റ്

കാലുകൊണ്ടും അളക്കും

ക്ലാസ്സ് മുറിയുടെ ഏത് വശത്തിനാണ് നീളം കൂടുതൽ?



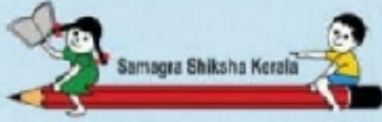
ഒന്നാമത്തെ വശത്തിന്റെ നീളം = 16 ചുവട്

രണ്ടാമത്തെ വശത്തിന്റെ നീളം = 22 ചുവട്

നീളം കൂടുതൽ ഏത് വശത്തിന് ?

'എത്ര കൂടുതൽ? ചുവട്

ചുവട് കാൽ പാദം ഉപയോഗിച്ചും പണ്ട് കാലത്ത് നീളം അളന്നിരുന്നു. ഒരു കാൽ പാദത്തിന്റെ നീളത്തെ ഒരു ചുവട് എന്നാണ് പറഞ്ഞിരുന്നത്.



ജില്ലയുടെ പേര്: കാസറഗോഡ്
ബി.ആർ.സി.യുടെ പേര്: ചെറുവത്തൂർ

സ്റ്റാൻഡേർഡ്: രണ്ട്
വിഷയം: ഗണിതം
യൂണിറ്റ്: 5
പാഠം: കാട് ഞങ്ങളുടെ വീട്
വർക്ക് ഷീറ്റ് നമ്പർ: 6

തുടർച്ച


വൈറ്റ് ബോർഡ് ഷീറ്റ്


മുയൽ 26 കാരും കുരങ്ങൻ 28 കാരും
കൊണ്ടുവന്നു. അവ ഒരു ചാക്കിലാക്കി. ഇപ്പോൾ
ചാക്കിൽ എത്ര കാരറ്റ് ഉണ്ട്?

മുയൽ കൊണ്ടുവന്നത് =

കുരങ്ങൻ കൊണ്ടുവന്നത് =

ആകെ കാരറ്റുകൾ =





ജില്ലയുടെ പേര്: കാസറഗോഡ്
ബി.ആർ.സി.യുടെ പേര്: ചെറുവത്തൂർ

സ്റ്റാൻഡേർഡ്: രണ്ട്
വിഷയം: ഗണിതം
യൂണിറ്റ്: 5
പാഠം: കാട് ഞങ്ങളുടെ വീട്
വർക്ക് ഷീറ്റ് നമ്പർ: 7

അവസാനം

വൈറ്റ് ബോർഡ് ഷീറ്റ്

അപ്പു 23 ലഡ്ഡുവും അമ്മു 13 ലഡ്ഡുവും വാങ്ങി. രണ്ടു പേരും കൂടി ആകെ എത്ര ലഡ്ഡു വാങ്ങി ?

അപ്പു വാങ്ങിയത് =

അമ്മു വാങ്ങിയത് =

ആകെ വാങ്ങിയത് =



പത്ത്	ഒന്ന്